

بِسْمِ تَعَالَى

مروری بر آموخته‌های ریاضی تا اردیبهشت

پیش‌دبستانی و دبستان غیردولتی ریحانه

مدت زمان: ۴۵ دقیقه

تاریخ: ۱۴۰۱/۰۲/۲۸

کلاس: دوم

نام و نام خانوادگی:

۱ الگوهای شمارش را کامل کنید.

..... و و و ۱۸ و ۱۲ و ۶

..... و و و ۱۱ و ۸ و ۶ و ۵

..... و و و و ۵۴۴ و ۵۴۲ و ۵۴۰

۲ در جاهای خالی عدد مناسب قرار دهید.

۵ سانتی متر برابر میلی متر است.

۴۷ میلی متر یعنی سانتی متر و میلی متر است.

۶ سانتی متر و ۳ میلی متر برابر میلی متر است.

۳ ارزش سکه‌های هر قسمت را بنویسید.



۴ حاصل جمع و تفریق زیر را از راه فرآیندی به دست بیاورید.

$$\begin{array}{r} ۳۴۱ \\ + ۲۵۷ \\ \hline \end{array}$$




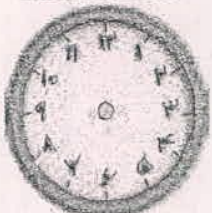

$$\begin{array}{r} ۷۸۰ \\ - ۶۲۰ \\ \hline \end{array}$$

۵ حاصل جمع و تفریق زیر را با روش انتقالی به دست آورید.

$$\begin{array}{r} ۲۵۷ \\ + ۱۶۵ \\ \hline \end{array}$$

$$\begin{array}{r} ۴۷۲ \\ - ۲۲۵ \\ \hline \end{array}$$

۶ دو ساعت و ربع بعد از ساعت ۷:۲۰ ساعت چند خواهد بود؟

<p>۷ احمد ۵۳۷ ریال پول داشت. اگر ۳۹۰ ریال دیگر از پدرش بگیرد چقدر پول خواهد داشت؟</p>	<p>۷</p>
<p>۸ آزاده ۲۵۰ صفحه از یک کتاب را خوانده است. اگر کتاب ۴۳۰ صفحه داشته باشد چند صفحه از آن باقی مانده است؟</p>	<p>۸</p>
<p>۹ ساعت چند است؟ نیم ساعت بعد، ساعت چند خواهد بود؟</p> 	<p>۹</p>
<p>۱۰ در هر شکل، جمله‌ها را کامل کنید.</p>  <p>..... قسمت از قسمت مساوی رنگ نشده است.</p>	<p>۱۰</p>  <p>..... قسمت از قسمت مساوی رنگ شده است.</p>
<p>۱۱ یک نفر ۲ دفتر و یک پاک کن خرید و ۹۵۰ تومان پول داد. قیمت دفتر ۴۰۰ تومان بود. قیمت پاک کن را پیدا کنید.</p>	<p>۱۱</p>
<p>۱۲ زمان‌های زیر را روی هر ساعت نشان دهید.</p>  <p>نیم ساعت مانده به ۳</p>  <p>یک ربع بعد از ۸</p>	<p>۱۲</p>
<p>موفق و پیروز باشید.</p>	